

## Mechanická práce – řešení příkladů

Mechanická práce, kterou vykoná těleso při přemístování jiného tělesa, závisí na velikosti síly, která na těleso působí, na dráze, o kterou se těleso přemístí a na úhlu, který svírá vektor síly s trajektorií tělesa.

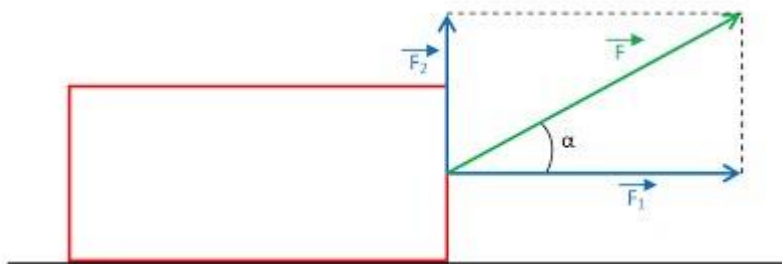
Přemísťujeme-li těleso po přímce působením konstantní síly rovnoběžné s trajektorií tělesa, vypočítá se **práce**:

$$W = F s$$

**Jednotkou práce** je N.m, nazývá se **joule** [džaul], značka **J**. (John Prescott Joule, 1818 – 1889, [džúl]).

**Práce se nekoná, je-li síla působící na těleso kolmá k jeho trajektorii.** Práci tedy nekoná ani dostředivá (normálová) síla při pohybu po kružnici.

Pokud působící síla svírá s trajektorií tělesa úhel  $\alpha$ , můžeme ji rozložit na dvě navzájem kolmé složky, z nichž **jedna působí rovnoběžně s trajektorií – pouze tato složka koná práci** (na obrázku  $F_1$ ).



Velikost této složky je  $F_1 = F \cos \alpha$

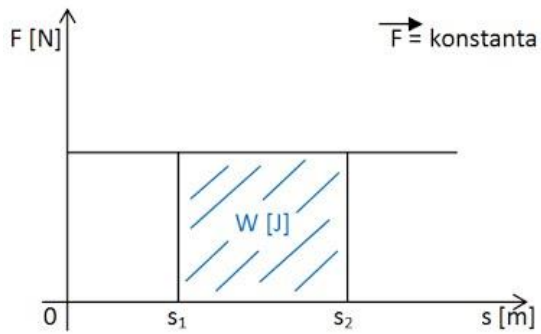
Jestliže těleso urazí působením konstantní síly  $F$  dráhu  $s$ , přičemž síla svírá s trajektorií tělesa stálý úhel  $\alpha$ , je mechanická práce dána vztahem:

$$W = F s \cos \alpha$$

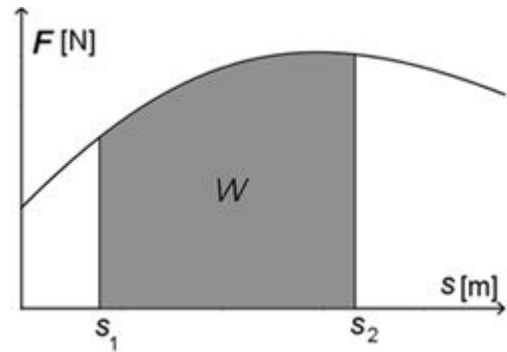
Pokud je  $0 \leq \alpha < 90^\circ$ , je  $\cos \alpha > 0$  a práce je kladná. V takovém případě těleso, které působí na jiné (zkoumané) těleso, koná práci. Pro úhly  $90^\circ < \alpha \leq 180^\circ$  je  $\cos \alpha < 0$ , je práce záporná (typicky tření, odpor prostředí).

-----

**Práce lze také určit graficky:**



stálá síla

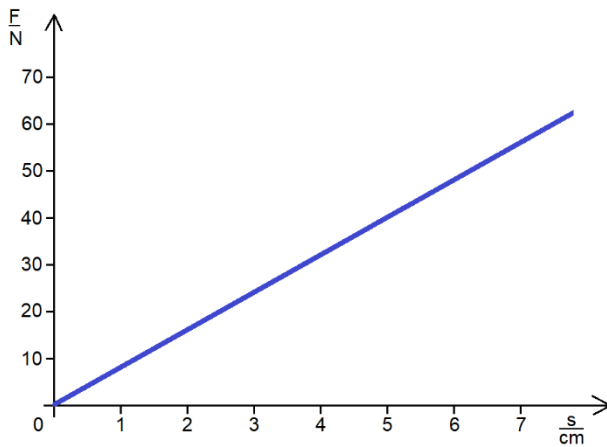


proměnlivá síla

Práce, kterou síla  $F$  vykoná na dráze  $s = \Delta s = s_2 - s_1$ , se rovná obsahu obdélníku o stranách  $F$  a  $s$ , tedy  $W = F s$ .

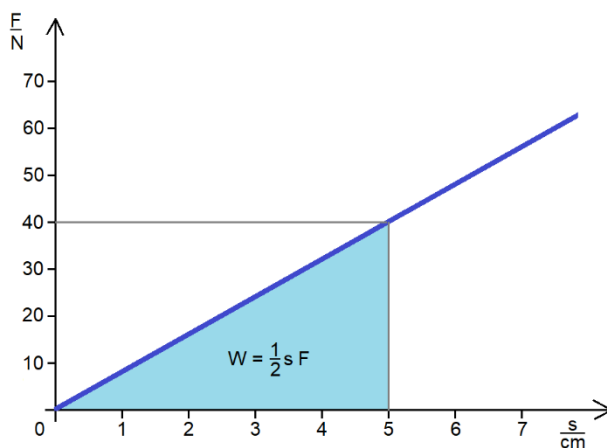
Příklady a úlohy:

**Příklad 1:** Při natahování pružiny je síla přímo úměrná délce protažení pružiny ( $F = k \cdot x$ ). Závislost pro konkrétní pružinu vyjadřuje graf:



Jakou práci vykonáme při natažení pružiny o 5 cm?

**Řešení:** práce je rovna obsahu pravoúhlého trojúhelníku o stranách  $F$  a  $s$ .



**Příklad 2:** Na automobil jedoucí po vodorovné silnici stálou rychlostí  $80 \text{ km}\cdot\text{h}^{-1}$  působí proti pohybu vlivem tření a odporu vzduchu síla o velikosti  $3,5 \text{ kN}$ . Jakou práci vykoná motor automobilu na dráze  $5 \text{ km}$ ?

**Řešení:**

$$F = 3,5 \text{ kN} = 3500 \text{ N}$$

$$s = 5 \text{ km} = 5000 \text{ m}$$

$$W = ?$$

-----

$$W = F s$$

$$W = 3500 \cdot 5000 = 17\,500\,000 \text{ J} = \underline{17,5 \text{ MJ}}$$

**Příklad 3:** Krabici o hmotnosti  $40 \text{ kg}$  posuneme rovnoměrným pohybem po vodorovné podlaze o  $20 \text{ metrů}$ . Součinitel smykového tření mezi krabicí a podlahou je  $0,5$ . Jakou práci při tom vykonáme?

**Řešení:**

$$m = 40 \text{ kg}$$

$$F_g = m g \quad (g = 9,81 \text{ m}\cdot\text{s}^{-2})$$

$$f = 0,5$$

$$F = f F_n = f F_g = f m g$$

$$s = 20 \text{ m}$$

$$W = ?$$

-----

$$W = F s = f m g s$$

$$W = 0,5 \cdot 40 \cdot 9,81 \cdot 20 = 3924 \text{ J} = \underline{3,9 \text{ kJ}}$$

Diskuse: v zadání není napsáno, že působíme silou ve směru pohybu. To ale není potřeba, šikmou silou rozložíme na složku kolmou k trajektorii a složku rovnoběžnou s trajektorií – pouze ta druhá koná práci. Tato síla musí být  $\geq$  síle odporové – ta však působí vždy proti směru pohybu tělesa = rovnoběžně s trajektorií.

**Příklad 4:** Těleso přesuneme po vodorovné podložce po přímce do vzdálenosti  $15 \text{ metrů}$ . Působíme na něj silou o velikosti  $80 \text{ N}$ , která svírá se směrem trajektorie úhel  $60^\circ$ . Jakou práci vykonáme?

**Řešení:**

$$F = 80 \text{ N}$$

$$\alpha = 60^\circ$$

$$s = 15 \text{ m}$$

$$W = ?$$

-----

$$W = F s \cos \alpha$$

$$W = 80 \cdot 15 \cdot \cos 60^\circ$$

$$W = \underline{600 \text{ J}}$$